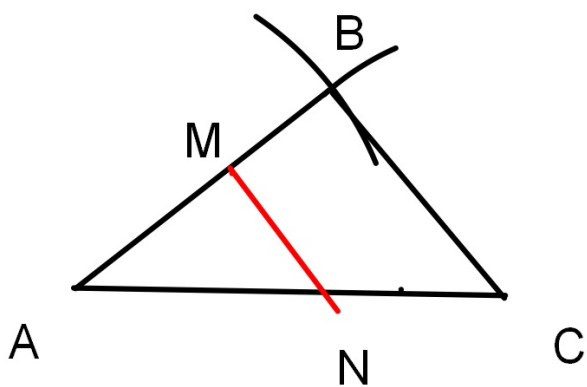
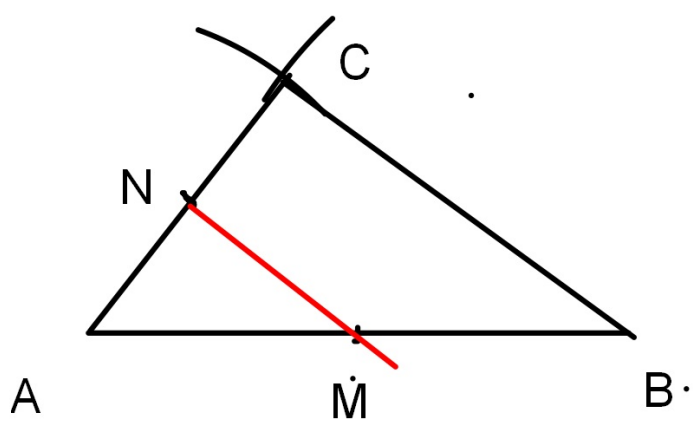


Pour noter et réfléchir sur les résultats d'une activité.

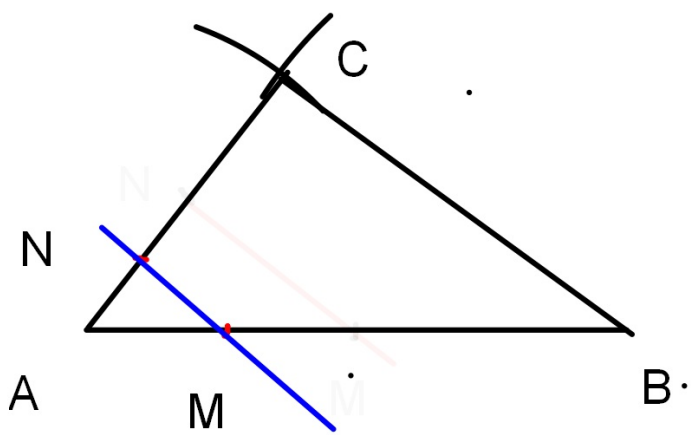
Activité proposée par le collège d'Aigurande



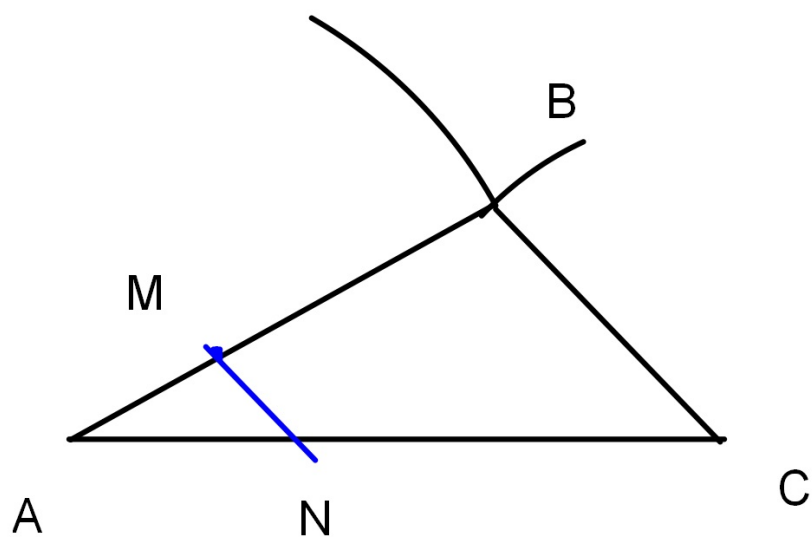
<i>Longueurs des côtés du triangle ABC</i>	<i>6 cm</i>	<i>8 cm</i>	<i>5 cm</i>
<i>Longueurs des côtés du triangle AMN</i>	<i>3,6 cm</i>	<i>4,8 cm</i>	



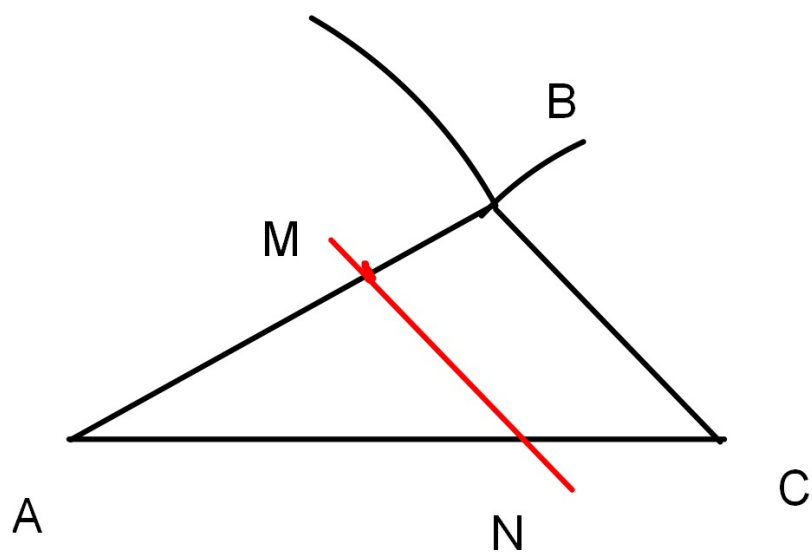
<i>Longueurs des côtés du triangle ABC</i>			
<i>Longueurs des côtés du triangle AMN</i>			



<i>Longueurs des côtés du triangle ABC</i>			
<i>Longueurs des côtés du triangle AMN</i>			



<i>Longueurs des côtés du triangle ABC</i>			
<i>Longueurs des côtés du triangle AMN</i>			



<i>Longueurs des côtés du triangle ABC</i>			
<i>Longueurs des côtés du triangle AMN</i>			

